



TAPU ve KADASTRO GENEL MÜDÜRLÜĞÜ

Lisanslı Harita Kadastro Mühendisliği Sınavı

B

ADAYIN

ADI :

SOYADI :

T.C.KİMLİK NUMARASI :

SINAV SALON NO : SIRA:

*Yukarıdaki Bilgileri Doldurmayı Unutmayınız.

Genel Açıklama

1. Bu kitapçıkta **120 soru vardır**. Cevaplamaya istediğiniz sorudan başlayabilirsiniz.
2. Sınav süresi **120 dakikadır**.
3. İşaretlemelerinizi yumuşak uçlu kurşun kalem ile işaretleme yapacağınız alanı taşırmadan yapınız.
4. Değiştirmek istediğiniz bir cevabı, cevap kâğıdını yıpratmadan siliniz.
5. Değerlendirme optik okuyucu ile yapılacağı için cevap kâğıdını katlamayınız, buruşturmayınız ve gereksiz işaret koymayınız.
6. Testte her soru için tek bir doğru cevap seçeneği işaretlenecektir. Birden fazla işaretleme yapmanız durumunda o soruya verdiğiniz cevap yanlış sayılacaktır.
7. **Hesaplama yapılırken doğru cevaplarınızın sayısından yanlış cevaplarınızın dörtte biri düşülecek ve kalan sayı hesaplamalarda kullanılacaktır.**
8. Soru kitapçığının boş yerleri müsvedde olarak kullanabilirsiniz.

MESLEK BİLGİSİ

MEDENİ HUKUK

1. Aşağıdakilerden hangisi için mahkeme kararı gerekmez?

- A) Ölüm karinesi
- B) Gaiplik
- C) Kazai rüşt
- D) İsim değiştirme
- E) Amacı kanuna veya ahlaka aykırı hale gelen bir derneğin tüzel kişiliğinin sona erdirilmesi

2. Aşağıdakilerden hangisi sınırlı ehliyetsizdir?

- A) Ayırtım gücüne sahip olmayan kişi
- B) Kendisine yasal danışman atanan kişi
- C) Evli bir kişi
- D) Ayırtım gücüne sahip kısıtlı bir kişi
- E) Mahkeme kararıyla ergin olan 16 yaşındaki bir kişi

3. E ile evli olan A'nın, E'nin dayısının kızı C ile arasındaki hısımlık bağı ile ilgili olarak aşağıda belirtilenlerden hangisi doğrudur?

- A) A ile C arasında 4. dereceden yansoy kayın hısımlığı vardır.
- B) A ile C arasında yapay hısımlık vardır.
- C) A ile C arasında 3. dereceden yansoy kayın hısımlığı vardır.
- D) A ile C arasında 3. dereceden yansoy kan hısımlığı vardır.
- E) A ile C arasında hukuki açıdan hısımlık bağı yoktur.

4. Aşağıdakilerden hangisi aynı haklar arasında yer almaz?

- A) İpotek
- B) Hapis hakkı
- C) Kira
- D) Mülkiyet
- E) Taşınmaz yükü

5. Paylı mülkiyetle ilgili olarak aşağıdakilerden hangisi söylenemez?

- A) Hukuken bölünemeyen eşya üzerinde paylı mülkiyet olmaz.
- B) Başka türlü belirlenmedikçe paylar eşit sayılır.
- C) Pay rehnedilebilir.
- D) Tarım türünün değiştirilmesi için pay ve paydaş çoğunluğuyla karar verilmesi gerekir.
- E) Paylı malın özgülendiği amacın değiştirilmesi bütün paydaşların kabulüne bağlıdır.

6. Arazinin altında veya üstünde yapı yapmak veya mevcut bir yapıyı muhafaza etmek yetkisi veren irtifak, aşağıdakilerden hangisi ile ifade edilir?

- A) Kaynak hakkı
- B) Üst hakkı
- C) Mecra hakkı
- D) İntifa hakkı
- E) Sükna hakkı

7. Yasal mirasçılar ve payları ile ilgili olarak aşağıda belirtilenlerden hangisi yanlıştır?

- A) Miras bırakanın birinci derece mirasçıları, onun altsoyudur.
- B) Sağ kalan eş, miras bırakanın büyük ana ve büyük babaları ve onların çocukları ile birlikte mirasçı olursa mirasın dörtte üçü kendisine ait olur.
- C) Evlâtlık ve altsoyu, evlât edinene kan hısımlığı gibi mirasçı olur.
- D) Evlât edinen ve hısımları, evlâtlığa mirasçı olmaz.
- E) Sağ kalan eş, miras bırakanın ana ve baba zümresi ile birlikte mirasçı olursa mirasın dörtte biri kendisine ait olur.

8. M, yaptığı vasiyetnamede terekesinin yarısını A'ya bırakmış, A'nın kendisinden önce ölmesi durumunda bu payın B'ye kalmasını vasiyet etmiştir.

Buna göre olayda aşağıdakilerden hangisi söz konusudur?

- A) Yedek mirasçı atama
- B) Art mirasçı atama
- C) Ön vasiyet
- D) Art vasiyet alacaklısı atama
- E) Miras paylaşırma kuralı

9. Yasal mirasçılarının, miras bırakandan miras paylarına mahsuben elde ettikleri sağlarması karşılıksız kazandırmaları, terekeye geri vermekle birbirlerine karşı yükümlü olmaları aşağıdakilerden hangisi ile ifade edilir?

- A) Tenkis
- B) Miras sebebiyle istihkak davası
- C) Mirasta denkleştirme
- D) Miras paylaşırma sözleşmesi
- E) Mirastan feragat

KADASTRO MEVZUATI

10. Kadastrosu yapılacak bölgeler hangi makamın onayı ile belirlenir?

- A) Tapu Kadastro Genel Müdürü
- B) Belediye Başkanı
- C) Vali
- D) Çevre ve Şehircilik Bakanı
- E) Orman Genel Müdürü

11. Kadastro Kanunu'na göre orman kadastrosu dışındaki kadastro çalışmaları ile ilgili olarak kadastro komisyonunda aşağıdakilerden hangisi yer alabilir?

- A) Kontrol mühendisi
- B) Orman mühendisi
- C) Ziraat mühendisi
- D) Mahalle veya köy muhtarı
- E) Kadastro teknisyeni

12. Kadastro Kanunu kapsamında düzenlenen kamu malları ile ilgili olarak aşağıdaki ifadelerden hangisi yanlıştır?

- A) Mera, yaylak, kışlak, otlak, harman ve panayır yerleri gibi taşınmaz mallar sınırlandırılarak özel siciline yazılır.
- B) Devletin hüküm ve tasarrufu altında bulunan kayalar, tepeler, dağlar gibi tarıma elverişli olmayan sahipsiz yerler kamu adına tescil edilerek ve sınırlandırmaya tabi tutulur.
- C) Kamu hizmetinde kullanılan resmi bina ve tesisler; kayıt, belge veya özel kanunlarına göre Hazine veya ilgili kurum adına tespit olunur.
- D) Mera, yaylak, kışlak, otlak gibi yerler özel kanunlarında yazılı hükümler saklı kalmak kaydıyla özel mülkiyete konu teşkil etmezler.
- E) Yol, meydan, köprü gibi orta malları, haritasında gösterilmekle yetinilir.

13. Aynı kadastro çalışma alanı içinde bulunan ve tapuda kayıtlı olmayan 30 dönüm sulu toprağı ve 125 dönüm kuru toprağı çekişmesiz ve aralıksız 25 yıldan beri malik sıfatıyla elinde bulunduran Zilyet (A), zilyetliğini belgelerle ispat etmiştir.

Belirtilen taşınmazlarla ilgili olarak Zilyet (A)'nın hukuki durumu konusunda aşağıdakilerden hangisi doğrudur?

- A) Kuru toprak 100 dönümü aştığından hiçbir şekilde Zilyet (A) adına tespit edilemez.
- B) Kuru toprağın tamamı koşulsuz Zilyet (A) adına tespit edilir.
- C) Söz konusu taşınmazın Zilyet (A) adına tespiti için yeterli zilyetlik süresi mevcut değildir.
- D) Kuru toprağın sadece 100 dönümü Zilyet (A) adına tespit edilir. Kalan alan hiçbir şekilde zilyet adına tespit edilemez.
- E) Zilyet (A)'nın Kanunca belirlenen ilgili belgelerden biri ile ispat etmesi durumunda kuru toprağın 100 dönümü aşan kısmı da adına tespit ettirilebilir.

14. Kadastro çalışma alanı ile ilgili olarak aşağıdaki ifadelerden hangisi yanlıştır?

- A) Kadastro bölgesindeki her köy ile belediye sınırları içinde bulunan mahallelerin her biri, kadastro çalışma alanını teşkil eder.
- B) Kadastro çalışma alanındaki ormanların kadastro ekibince sınırlandırma ve tespitleri yapılarak 30 günlük kısmî ilâna alınır.
- C) Kadastro ekibi, kadastro çalışma alanı sınırının tespitinde il ve ilçelerin belediye sınırları ile köy sınırlarını dikkate alır.
- D) Kadastro çalışma alanı içinde, ilk parsel için kadastro tutanağının düzenlenmesinden sonra idari teşkilat ve taksimatta yapılan değişiklik, başlanan kadastroyu durdurmaz.
- E) **Kadastro ekibinin tespit ettiği kadastro çalışma alanı sınırları mahalle, belediye, köy idari sınırları olarak kabul edilir.**

15. Kadastro Kanunu'na göre; kadastro tespitine itiraz aşağıdaki mercilerden hangisine yapılabilir?

- A) **Kadastro teknisyenliği**
- B) Kadastro komisyonu
- C) Kadastro ekibi
- D) İlgili belediye
- E) Tapu Kadastro Genel Müdürlüğü

16.

- I. Hizmet malları
- II. Orta malları
- III. Sulu tarım arazisi
- IV. Ormanlar

Yukarıda sayılan taşınmaz türlerinden hangisi veya hangileri kazandırıcı zamanaşımı yoluyla iktisap edilebilir?

- A) Yalnız III
- B) III ve IV
- C) I, II ve III
- D) **I, II ve IV**
- E) II, III ve IV

17. Kadastro ekibinde yer alan üç bilirkişinin özelliklerine dair aşağıda verilen bilgilerden hangisi yanlıştır?

- A) 40 yaşını bitirmiş olmaları gerekir.
- B) Kısıtlı olmamaları gerekir.
- C) **Yüz kızartıcı bir suçtan yargılanmamış olmaları gerekir.**
- D) Zamanında seçilemeyen bilirkişileri bölgenin mülkî amiri belirler.
- E) Seçilen bilirkişiler, eşlerinin büyükbabalarına ilişkin uyuşmazlıklarda dinlenilemez.

18. Kadastro müdürünün, kadastro başlanacak köyü, ilgili yerlerde ve alışımlı vasıtalarla duyuracağı en erken süre aşağıdakilerden hangisidir?

- A) 5 gün
- B) 7 gün
- C) 10 gün
- D) **15 gün**
- E) 30 gün

19. Kadastro tespitine itiraz ile ilgili olarak aşağıdaki ifadelerden hangisi doğrudur?

- A) **İtiraz edenin ilân süresi içinde dava açma hakkı saklıdır.**
- B) Kadastro tutanağı düzenlendikten sonra en geç on gün içinde tespitlere itiraz edilebilir.
- C) İtiraz, kadastro mahkemesine yapılır.
- D) İtiraz, sadece dinlenen tanık ifadeleri hakkında yapılabilir.
- E) İtirazın dinlenilebilmesi, tanık ifadesine dayanmasına bağlıdır.

20. Askı cetvellerinin ve pafta örneklerinin müdüriyette ve ayrıca muhtarın çalışma yerinde ilân edileceği süre aşağıdakilerden hangisidir?

- A) 5 gün
- B) 7 gün
- C) 10 gün
- D) 15 gün
- E) **30 gün**

21. Kadastro tutanaklarının kesinleşmesi ile ilgili olarak aşağıdaki ifadelerden hangisi yanlıştır?

- A) Bu tutanaklarda belirtilen haklara, sınırlandırma ve tespitlere dair, kesinleşmeden itibaren on yıl geçtikten sonra kadastrodan önceki hukukî sebeplere dayanarak itiraz olunamaz ve dava açılmaz.
- B) Kesinleşmeden itibaren on yıl geçtikten sonra kadastrodan önceki hukukî sebeplere dayanarak itiraz olunamaması hükmü, kamu taşınmazlarında uygulanmaz.
- C) İlân süresi geçtikten sonra dava açılmayan kadastro tutanaklarına ait sınırlandırma ve tespitler kesinleşir.
- D) Tutanakların kesinleşme tarihi, tescil tarihi olarak gösterilmelidir.
- E) Kesinleşen tutanaklar en geç üç ay içinde tapu kütüklerine kaydedilir.

22. Yol, meydan, köprü gibi orta mallarının kadastro esnasındaki hukukî akıbeti ile ilgili olarak aşağıdaki ifadelerden hangisi doğrudur?

- A) Sınırlandırılır, parsel numarası verilerek yüzölçümü hesaplanır ve özel siciline yazılır.
- B) Diğer taşınmaz mallar gibi tapu kütüğüne kaydedilir.
- C) Herhangi bir sınırlandırma veya hesaplama yapılmadan tapu kütüğüne kaydedilir.
- D) Haritasında gösterilmekle yetinilir.
- E) Kadastro esnasında bu taşınmazlara ilişkin herhangi bir işlem yapılmaz.

23. Devletin hüküm ve tasarrufu altında bulunan, kamu hizmetine tahsis edilmemiş ve orman vasfını haiz olmayan arazinin, emek ve masraf sarfı ile tarıma elverişli hâle getirilmesi aşağıdakilerden hangisi ile ifade edilir?

- A) Muhasebatı atika
- B) Muhdesat
- C) İmar ve ihya
- D) İktisap
- E) İfraz

24. Kadastro sırasında geometrik durumları kesinleşmiş olan taşınmazlarda ölçü, sınırlandırma, tersimat ve hesaplamalardan doğan hataların düzeltilmesi ile ilgili olarak aşağıdaki ifadelerden hangisi yanlıştır?

- A) İlgilinin müracaatı üzerine düzeltilir.
- B) Kadastro müdürlüğünce re'sen düzeltilebilir.
- C) Düzeltme, taşınmaz maliklerine ve diğer hak sahiplerine tebliğ edilir.
- D) Kadastrodan itibaren on yıl geçmiş ise bu hataların düzeltilmesi mümkün değildir.
- E) Düzeltmenin kaldırılmasına ilişkin dava sulh hukuk mahkemesinde açılır.

TAPU MEVZUATI

25. Ülke menfaatlerinin gerektiği hallerde yabancı uyruklu gerçek kişiler ile yabancı ülkelerde kendi ülkelerinin kanunlarına göre kurulan tüzel kişiliğe sahip ticaret şirketlerinin taşınmaz ve sınırlı aynı hak edinimlerini; ülke, kişi, coğrafi bölge, süre, sayı, oran, tür, nitelik, yüz ölçüm ve miktar olarak belirleyebilme ve sınırlandırma yetkisi aşağıdaki mercilerden hangisine aittir?

- A) Dışişleri Bakanlığı
- B) TBMM
- C) Başbakanlık
- D) Tapu ve Kadastro Genel Müdürlüğü
- E) Bakanlar Kurulu

26. Noterler tarafından tanzim edilen arsa payı karşılığı inşaat sözleşmelerine ilişkin yapılacak tapu sicili işlemi aşağıdaki ifadelerden hangisinde doğru olarak verilmiştir?

- A) Taraflardan birinin talebi üzerine tescil edilir.
- B) Taraflardan birinin talebi üzerine şerh verilir.
- C) Taraflardan birinin talebi üzerine beyanlar sütununa kaydedilir.
- D) Sadece malikin talebi üzerine şerh verilir.
- E) Sadece malikin talebi üzerine tescil edilir.

27. Yabancı uyruklu gerçek kişilerin Türkiye'de taşınmaz ve sınırlı aynî hak edinmesi ile ilgili olarak aşağıdaki ifadelerden hangisi yanlıştır?

- A) Kanunî sınırlamalara uyulması gerekir.
- B) Toplam alanı, özel mülkiyete konu ilçe yüzölçümünün yüzde onunu geçemez.
- C) Toplam alanı, ülke genelinde 50 hektarı geçemez.**
- D) Hangi ülke vatandaşlarının taşınmaz edineceğine Bakanlar Kurulu karar verir.
- E) Uluslararası ikili ilişkiler bu belirlemede dikkate alınır.

28. Tapu Kanunu'na göre; izinsiz doldurulmuş olan yerlerin tescilinde mahzur olmadığı ilgili dairelerce kabul olunursa doldurulan yerlerin, doldurulmuş olduğu halindeki değerinin ne kadarı alınmak şartıyla dolduran namına tescili yapılır?

- A) 1/2'si
- B) 1/3'ü
- C) 1/4'ü
- D) 1/5'i
- E) 1/10'u**

29. Köylerde bulunan metruk ve kimsesiz mezarlıkların tapu işlerine ilişkin olarak aşağıdaki ifadelerden hangisi doğrudur?

- A) Köy muhtarı adına tescil olunur.
- B) Köyün bağlı olduğu ilçe adına tescil edilir.
- C) Köy manevî şahsiyeti adına tescil olunur.**
- D) Sahipsiz taşınmaz olarak kaydedilir.
- E) Herhangi bir tescil işlemi yapılmaz.

30. Tapu müdürlüğünün mirasçılık belgesi düzenlenmesi için yargıya başvurması için ölüm tarihinden itibaren tapu sicilinde miras intikalinin yapılmaması gereken en az süre aşağıdakilerden hangisinde doğru olarak verilmiştir?

- A) 1 yıl
- B) 2 yıl**
- C) 5 yıl
- D) 10 yıl
- E) 20 yıl

31. Tapu sicil müdürlüğünde düzenlenen resmî senetlere ilişkin olarak aşağıdaki ifadelerden hangisi yanlıştır?

- A) Resmî senede tarafların kimlik bilgileri kaydedilir.
- B) Resmî senede tarafların vergi kimlik numaraları kaydedilir.
- C) Tarafların yanı sıra bunu hazırlayan tapu sicil müdürlüğü görevlileri de resmî senedi imzalar.
- D) Resmî senedin mutlaka tapu sicil müdürü tarafından şahsen onaylanması gerekir.**
- E) Tarafların kimliklerinde şüpheye düşülen hâllerde tank getirilmesi istenebilir.

32. Taşınmaz satış vaadi sözleşmelerinde şerhin etki süresi aşağıdakilerden hangisidir?

- A) 1 yıl
- B) 2 yıl
- C) 5 yıl**
- D) 10 yıl
- E) 20 yıl

İMAR MEVZUATI

33. İmar plânlarının onay tarihinden itibaren belediye başkanlığınca tespit edilen ilân yerlerinde ve ilgili idarelerin internet sayfalarında ilân edileceği süre aşağıdakilerden hangisidir?

- A) 1 hafta
- B) 3 hafta
- C) 1 ay**
- D) 3 ay
- E) 1 yıl

34. İmar mevzuatı bakımından belediyelerin kontrol ve mesuliyeti altına verilmiş olan bölge, aşağıdakilerden hangisi ile ifade edilir?

- A) İmar adası
- B) İmar parseli
- C) Kadastro alanı
- D) İmar alanı
- E) Mücavir alan**

KIYI MEVZUATI

35. Kıyı Kanunu'nun ilgili maddelerinde belirtilen hükümlere uygun olarak sahil şeridinde yapılan yapıların niteliklerinin, tapu kütüğünde hangi bölüme işlenmesi zorunludur?

- A) Şerhler
- B) Beyanlar
- C) Aziller sicili
- D) Kamu orta malları sicili
- E) Düzeltmeler sicili

36. Aşağıdakilerden hangisi uygulama imar planı kararı ile kıyılarda yapımına izin verilebilecek yapılar arasında yer almaz?

- A) Yazlık konut
- B) İskele
- C) Balık üretim çiftliği
- D) Turizm amaçlı alışveriş merkezi
- E) Tersane

KAMULAŞTIRMA MEVZUATI

37. Kamulaştırma Kanunu'na göre; idare, tapulama veya kadastro yapılmamış yerlerin durumunun tespiti için mahallin mülki amirince atanan bilirkişiler hangi mahkemede yemin eder?

- A) Sulh hukuk mahkemesi
- B) Asliye hukuk mahkemesi
- C) İhtisas mahkemesi
- D) Bölge idare mahkemesi
- E) Özel yetkili mahkeme

38. Bir taşınmazın kamulaştırılmasında, kamulaştırma sürecinde ilk yapılacak işlem aşağıdakilerden hangisidir?

- A) Tapuya şerh verilmesi
- B) Kamu yararı kararı alınması
- C) Kamulaştırmanın onaylanması
- D) Kamu yararının onaylanması
- E) Tapuda devrin verilmesi

ORMAN MEVZUATI

39. Orman kadastro komisyonlarınca düzenlenen tutanaklara karşı tapulu gayrimenkul sahipleri azami ne kadar süre içerisinde dava açabilir?

- A) 1 ay
- B) 3 ay
- C) 1 yıl
- D) 2 yıl
- E) 10 yıl

40. Orman Kanunu'na göre, orman kadastro komisyonlarınca düzenlenen tutanakların askı suretiyle ilanının hükmü aşağıdakilerden hangisinde doğru olarak ifade edilmiştir?

- A) İlgililere şahsen yapılan tebliğ hükmündedir.
- B) İlgililere davet hükmündedir.
- C) Kadastro işlemine başlama ilanı hükmündedir.
- D) Kadastro ekibine tebliğ hükmündedir.
- E) İlgililere ön duyuru hükmündedir.

MERA MEVZUATI

41. Mera Kanunu'na göre; çayır, mera, yaylak ve kışlak arazisi olduğuna karar verilen yerlerin sınırlarının usulüne uygun olarak ülke nirengi sistemine dayalı 1/5000 ölçekli haritalar üzerinde belirtilmesi ve bu sınırların arazi üzerinde kalıcı işaretlerle işaretlenmesi aşağıdakilerin hangisi ile ifade edilir?

- A) Tahsis
- B) Tahdit
- C) Tescil
- D) Tespit
- E) Tecdit

42. Kadastro Kanunu uyarınca programa alınan mera, yaylak veya kışlaklar, kadastro çalışmalarının başlamasından en az ne kadar süre önce Tapu ve Kadastro Genel Müdürlüğü tarafından, Gıda Tarım ve Hayvancılık Bakanlığı'na bildirilir?

- A) 30 gün
- B) 2 ay
- C) 3 ay
- D) 4 ay
- E) 6 ay

ARAZİ TOPLULAŞTIRMA MEVZUATI

43. Toprak Koruma ve Arazi Kullanımı Kanunu kapsamında; arazilerin doğal ve yapay etkilerle bozulmasını ve parçalanmasını önleyerek, parçalanmış arazilerde ise doğal özellikleri, kullanım bütünlüğü ve mülkiyet hakları gözetilerek birden fazla arazi parçasının birleştirilip ekonomik, ekolojik ve toplumsal yönden daha işlevsel yeni parsellerin oluşturulması ve bu parsellerin arazi özellikleri ve alanı değerlendirilerek kullanım şekillerinin belirlenmesi, köy ve arazi gelişim hizmetlerinin sağlanması aşağıdakilerden hangisi ile ifade edilir?

- A) Arsa ve arazi düzenlemesi
- B) Arazi kadastro
- C) Arazi sınıflaması
- D) Arazi kullanım planlaması
- E) Arazi toplulaştırması

44. Toprak Koruma ve Arazi Kullanımı Kanunu kapsamında, toplulaştırmaya konu arazilerden yol, kanal, tahliye kanalı gibi kamunun ortak kullanacağı yerler için en fazla ne kadar ortak tesislere katılım payı düşülür?

- A) % 5
- B) % 10
- C) % 15
- D) % 20
- E) % 40

KÜLTÜR ve TABİAT VARLIKLARI MEVZUATI

45. Korunması gerekli taşınmaz kültür ve tabiat varlıkları ile ilgili yapılan tespitler, aşağıdaki mercilerden hangisinin kararı ile tescil olunur?

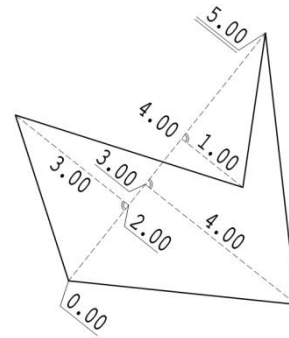
- A) Kültür ve Turizm Bakanı
- B) Kültür Varlıklarını Koruma Yüksek Kurulu
- C) Kültür Varlıklarını Koruma Bölge Kurulu
- D) Bakanlar Kurulu
- E) Anıtlar Yüksek Kurulu

46. Taşınmaz tabiat varlıkları, doğal sit alanları ve bunlara ilişkin koruma alanları ile ilgili olarak Kültür ve Tabiat Varlıklarını Koruma Kanunu'nda öngörülen iş, işlem ve kararlar bakımından görevli ve yetkili bakanlık aşağıdakilerden hangisidir?

- A) Kültür ve Turizm Bakanlığı
- B) Gıda Tarım ve Hayvancılık Bakanlığı'na
- C) Çevre ve Şehircilik Bakanlığı
- D) İlgili Devlet Bakanlığı
- E) Başbakanlık

HARİTACILIK ve TEKNİK KONULAR

47.



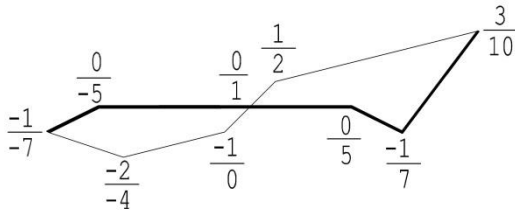
Prizmatik yöntemle alımı yukarıdaki kroki-
de gösterilen parselin alanı aşağıdakilerden
hangisidir?

- A) 14.5 m²
- B) 15.5 m²
- C) 16.5 m²
- D) 17.5 m²
- E) 18.5 m²

48. Yer, 6371 km yarıçaplı bir küre olarak kabul edildiğinde güney kutup noktasının yer merkezli kartezyen koordinatları aşağıdakilerden hangisinde verilmiştir?

- A) (-6371000,0,6371000)
- B) (0,0,6371000)
- C) (6371000,0,0)
- D) (0,6371000,0)
- E) (0,0,-6371000)

49.



Yukarıdaki şekilde yol enkesiti verilmiştir. Verilen ölçüler yardımıyla yarma dolgu alan farkı mutlak değerce aşağıdakilerden hangisidir?

- A) 3.5 m²
- B) 4.5 m²
- C) 5.5 m²
- D) 6.5 m²
- E) 8.5 m²

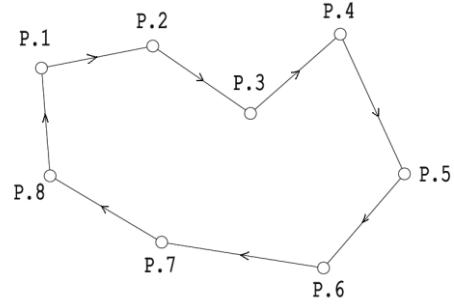
50. Doğrultu ölçümlerinde, teodolitlerde düzeç eksenini hatası ile ilgili aşağıdaki ifadelerden hangisi doğrudur?

- A) Açılar, dürbünün I. ve II. durumunda ayrı ayrı okunup ortalaması alınarak giderilebilir.
- B) Açılı dairesinin karşılıklı iki yerinden okuma yapılarak giderilir.
- C) Açılarının silsile yöntemi ile okunması ile giderilir.
- D) Açılarının silsile yöntemi ile okunması ve açı tablasının her okumada belli miktar kaydırılması ile giderilir.
- E) Açılı ölçüm teknikleri ile giderilemez.

51. Haritada 27 mm olarak ölçülen uzunluk zeminde 67.5 m ise ölçek aşağıdakilerden hangisidir?

- A) 1/500
- B) 1/1500
- C) 1/2000
- D) 1/2500
- E) 1/5000

52.



Yukarıda şekli ve gidiş yönü gösterilen kapalı poligon hattının kırılma açıları toplamı aşağıdakilerden hangisidir?

- A) 1200°
- B) 1400°
- C) 1600°
- D) 1800°
- E) 2000°

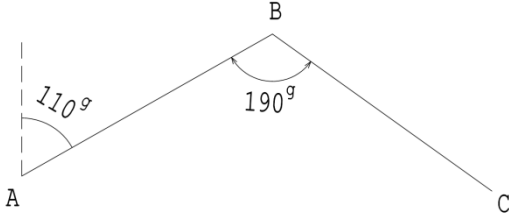
53. 12 km²'nin hektar cinsinden karşılığı aşağıdakilerden hangisidir?

- A) 120
- B) 1200
- C) 12000
- D) 120000
- E) 1200000

54. Bir aplikasyonda 260m mesafede 1°'lik yatay açı okuma hatası kaç cm kayıklığa sebep olur? (p=3 alınız)

- A) 0.2 cm
- B) 0.4 cm
- C) 2 cm
- D) 4 cm
- E) 40 cm

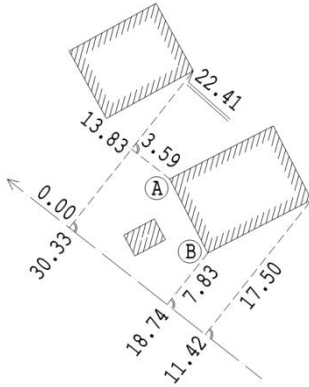
55.



Yukarıdaki şekilde (AB) semti 110^g ve B açısı 190^g olduğuna göre (BC) semti aşağıdakilerden hangisidir?

- A) 20^g
- B) 120^g
- C) 180^g
- D) 220^g
- E) 320^g

56.



Kadastro müdürlüğü arşivinden alınan ve yukarıda şekli verilen prizmatik ölçü kroki-si örneğinde AB cephesi hesaplandığında aşağıdakilerden hangisi bulunur?

- A) 9 m
- B) 10 m
- C) 11 m
- D) 12 m
- E) 13 m

57. Kare şeklinde $120m^2$ inşaat alanında 39m kota kadar kazı yapılacaktır. İnşaat alanı köşe kotları 40m, 41m, 42m, 41m olarak verilmiştir.

Kazı hacmi aşağıdakilerden hangisidir?

- A) $120 m^3$
- B) $180 m^3$
- C) $200 m^3$
- D) $240 m^3$
- E) $360 m^3$

58. Eğimi 1/250 olarak verilen bir hattın başlangıç noktasının kotu 64.947 m'dir. Hat üzerinde başlangıç noktasından 75m yatay mesafede bulunan noktanın kotu aşağıdakilerden hangisidir?

- A) 64.977 m
- B) 65.247 m
- C) 65.280 m
- D) 67.947 m
- E) 68.280 m

59. Aşağıdakilerden hangisi 1 radyan karşılığıdır?

- A) $57^{\circ} 29' 58''$
- B) $\frac{360^{\circ}}{\pi}$
- C) $\frac{200^g}{\pi}$
- D) $\frac{\pi}{180^{\circ}}$
- E) $63^{\circ} 66' 20''$

60. Nivelmanda diğer tüm şartların bozucu etkisi göz ardı edildiğinde küresel düzeye ayarı bozulmuş veya küresel düzeye kırılmış bir düz miraya, aynı noktada nivo ile art arda yapılan ve aşağıdaki seçeneklerde verilen 5 adet değer okumasının hangisi gerçek değere en yakın olmalıdır?

- A) 2489
- B) 2488
- C) 2487
- D) 2486
- E) 2485

61. Yakın kızıl ötesi ışık ile elektronik uzaklık ölçmelerinde giderilmesi gereken atmosferik etkilerin nedenleri aşağıdakilerden hangisidir?

- A) Atmosferik basınç ve nem
- B) Sadece hava sıcaklığı
- C) Hava sıcaklığı, basınç ve nem
- D) Sadece atmosferik basınç
- E) Hava sıcaklığı ve atmosferik basınç

62. Nivelman ölçülerinde, geri ve ileri okuma uzaklıklarının yaklaşık olarak eşit tutulmaya çalışılmasının nedeni aşağıdakilerden hangisidir?

- A) Okuma hatalarının en aza indirgenmesi
- B) Nivonun düzeçlenmesindeki rasgele hataların giderilmesi
- C) Miraların tam düşey tutulmamasından kaynaklanan hataların giderilmesi
- D) Yer küreselliği ve atmosferik kırılmadan kaynaklanan hataların giderilmesi
- E) Kolimasyon hatalarının giderilmesi

63.

- I. Her iki sistemde de koordinat eksenleri birbirine dik olmalıdır.
- II. Her iki sistemde, koordinatları bilinen en az üç noktaya ihtiyaç vardır.
- III. Paralel çizgiler, dönüşüm sonrasında paralel kalır.
- IV. Bir çizginin orta noktası, dönüşen çizginin de orta noktasıdır.
- V. Açılar korunur.
- VI. Uzunluklar korunur.
- VII. Bir doğruyu oluşturan noktalar, dönüşüm sonrasında da bir doğru oluşturur.

Yukarıdakilerden hangileri affin koordinat dönüşümünün özelliklerindedir?

- A) I, II, III, V
- B) II, IV, VI, VII
- C) II, III, V, VI
- D) II, III, IV, VII
- E) I, III, IV, VI

64.

- I. Koordinat Sistemleri
- II. Elipsoitler
- III. Harita Projeksiyonları
- IV. Datumlar

CBS yazılımları yukarıdaki özelliklerden hangilerinde değişim/dönüşüm yapabilmelidir?

- A) I ve II
- B) II ve III
- C) I, II ve III
- D) II, III ve IV
- E) I, II, III ve IV

65. Uzunluk ölçümü için kullanılacak bir çelik şerit metrenin ucu kırılmış olup uç kısmı sıfır yerine 1 cm'den itibaren başlamaktadır. Kontrol edilmeden, bu çelik şerit metre ile yapılacak uzunluk ölçümlerinde aşağıdaki hatalardan hangisi oluşur?

- A) Kaba hata
- B) Rasgele hata
- C) Sistemik hata
- D) Eksik hata
- E) Çarpan hatası

66. Doğrultu ölçüm duyarlılığı $\pm 2''$ olan bir teodolit ile bir doğrultunun $\pm 0.5''$ duyarlılıkla belirlenmesi için aynı doğrultu kaç defa ölçülmelidir?

- A) 2
- B) 4
- C) 8
- D) 16
- E) 32

67. Eğik resimde izdüşüm merkezinden geçen düşey doğrunun fotoğraf düzlemini kestiği nokta aşağıdaki seçeneklerin hangisi ile ifade edilir?

- A) Normal nokta
- B) Asal nokta
- C) İzdüşüm merkezi
- D) Nadir nokta
- E) Kaçış noktası

68. Aşağıdaki formüllerden hangisi ortometrik yükseklik (H), elipsoid yüksekliği (h) ve jeoit yüksekliği (N) arasındaki ilişkiyi tanımlar?

- A) $h = H - N$
- B) $H = h / N$
- C) $N = h + H$
- D) $h = H + N$
- E) $N = H - h$

69. Duyarlılığı ± 2 mm olarak verilen 20 m'lik bir çelik şerit ile 80 m'lik bir uzunluk hangi duyarlılıkta belirlenebilir?

- A) ± 2 mm
- B) ± 4 mm
- C) ± 6 mm
- D) ± 8 mm
- E) ± 16 mm

70. Hata ile ters işaretli olup gerçek değer ya da kesin değerden ölçü değerinin çıkartılması ile bulunan miktar aşağıdaki seçeneklerin hangisi ile ifade edilir?

- A) Tecviz
- B) Hata sınırı
- C) Gerçek hata
- D) Mutlak hata
- E) Düzeltme

71. Fotogrametrik değerlendirmede karşılıklı yöneltme probleminin çözümü için aşağıdaki ifadelerden hangisi doğrudur?

- A) En az 2 konum ve 3 yükseklik noktasına ihtiyaç vardır.
- B) En az 5 yükseklik noktasına ihtiyaç vardır.
- C) En az 3 tam kontrol noktasına ihtiyaç vardır.
- D) En az 2 tam kontrol ve boş bir yerde 1 yükseklik noktasına ihtiyaç vardır.
- E) Konum veya yüksekliği bilinen kontrol noktalarına ihtiyaç yoktur.

72. Aşağıdakilerden hangisi çift frekanslı GPS alıcılarının sağladığı avantajlardan biri değildir?

- A) İyonosferik etkinin giderilmesi
- B) Troposferik etkinin giderilmesi
- C) Daha fazla ölçü ile kestirim yapılabilmesi
- D) Daha uzun bazlarda duyarlı çözüm yapılabilmesi
- E) Tam sayı bilinmeyenlerinin daha kolay çözülebilmemesi

DİĞER KONULAR

TÜRKÇE, DİL BİLGİSİ ve YAZIŞMA

73. Sorunlarını halletmek için önce konuşmalısın onlarla.

Bu cümle, yüklemnin yerine göre aşağıdakilerden hangisiyle özdeştir?

- A) Son günlerde bütün gazeteler ondan söz ediyordu.
- B) Evde kap kaçak ne varsa alıp götürdüler.
- C) Başarıyı gerçek anlamda hak etmek, çalışmaya bağlıdır.
- D) Ayşe'nin bizimle gelmesini istemiyorduk hiçbirimiz.
- E) Çocuk yalan söylemesi gerektiğini büyüklerinden öğreniyor.

74.

- Bir istek ya da şikayeti bildirmek üzere yazılır.
- Kısaltma kullanılmamalıdır.
- Sol alta adres, sağ alta ad-soyad yazılır ve ismin üzeri imzalanır.

Yukarıda özellikleri verilen yazışma türü (iş yazışması) aşağıdakilerden hangisidir?

- A) Dilekçe
- B) Özgeçmiş
- C) Tutanak
- D) Genelge
- E) Rapor

75. (I) Özel bir camdır mercek (II) Dağılmış güneş ışınlarını bir noktada toplayarak odun, kağıt, saman gibi şeyleri yakar (III) Taş, cam ve demir gibi şeyleri de ısıtır (IV) İşte bir mercek gibidir halkın içinde yetişen büyük insanlar da (V) Kişilerin içindeki ateşi ortaya çıkaran, onlar için bir ışık kaynağı olan

Yukarıdaki parçada numaralandırılmış cümlelerin hangisinin sonuna diğerlerinden farklı bir noktalama işareti getirilmelidir?

- A) I
- B) II
- C) III
- D) IV
- E) V

76. Aşağıdaki cümlelerin hangisinde büyük harflerin yazımından kaynaklı bir yanlışlık yapılmıştır?

- A) Her yıl 19 Haziran'da biz üç eski arkadaş buluşur, eski günleri yad ederdik.
B) Sipariş ettiğimiz Isparta Halıları bir hafta gecikince evdeki telaş da artmaya başladı.
C) Şehre inmeden önce Van Gölü'nün üzerinde alçalan uçak, bizi heyecanlandırmaya yetmişti.
D) Reşat Nuri'nin Çalığışu romanını okurken sanki ben de roman kahramanı ile birlikte ülkeyi dolaştım.
E) Dünya ile Güneş arasındaki mesafe daha az olsaydı belki daha sıcak kanlı insanlar olurduk.

77. -----; bir kimsenin eğitimi, iş deneyimi, sosyal ve kişisel özellikleriyle ilgili olarak kendisinin verdiği bilgileri içeren yazı türüdür.

Yukarıdaki cümlede boş bırakılan yere aşağıdakilerden hangisi getirilmelidir?

- A) Rapor
B) Özgeçmiş
C) Tutanak
D) Genelge
E) Dilekçe

78. (I) Semt pazarlarına gitmeyi çok severim. (II) Alışveriş yapmak için değil ama... (III) Pazara gelen insanları seyretmek, keyif verir bana. (IV) Alışveriş yapanların "Üzüm kaç?" "Aman iyisinden koy!" şeklindeki pazarlık cümlelerini izlerim. (V) Satıcıların bağrıışları ve kendi aralarındaki dert yanıışları da bunlara eklenir.

Yukarıdaki parçada numaralandırılmış cümlelerin hangisinde bir "tahmin" söz konusudur?

- A) I
B) II
C) III
D) IV
E) V

79. Öykü ile romanın yazılma süreci birbirinden oldukça farklı. Sanılır ki roman, öyküden daha uzun olduğu için daha zor yazılır. Hâlbuki durum böyle değildir. Romanın üzerinde istenildiği zaman istenildiği gibi çalışılabilir, değiştirmeler yapılabilir. Buna karşın öykü yazarken önce düşünülür, gözlem yapılır ve sonra öykü bir çırpıda kaleme alınır.

Yukarıdaki parçanın anlatımında aşağıdaki anlatım türlerinden hangisi ağır basmaktadır?

- A) Betimleyici
B) Öyküleyici
C) Karşılaştırmacı
D) Açıklayıcı
E) Tanımlayıcı

80. (I) Bana küçükken "Büyünce ne olacaksın?" diye sorarlardı. (II) Arkadaşlarımdan itfaiyeci ya da pilot olmak istedikleri dönemde ben, "icatçı" ya da "keşifçi" derdim. (III) Aslında bunu söylerken anlatmak istediğim, makine icat edebilmek için makine mühendisi ya da bir ilaç keşfedebilmek için biyolog falan olmağı. (IV) Sanıyorum, bu isteğimin arka planında, insanlığa hizmet ederek tarihe geçmek arzusu vardı. (V) Büyüyünce itfaiyeci olmayı isteyen arkadaşlarımdan iyi kazanç elde etmek için makine mühendisi oldular.

Yukarıdaki parçada numaralandırılmış cümlelerin hangisi düşüncenin akışını bozmaktadır?

- A) I
B) II
C) III
D) IV
E) V

81. İlk heykelin ne zaman ve kimler tarafından yapıldığı bilinmemesine karşın heykel ve heykelciliğin tarihinin eski zamanlara kadar uzandığı bilinmektedir. Dünyanın çeşitli yerlerinde yapılan kazılarda mermer, ağaç, maden gibi çeşitli malzemelerden yapılmış heykel ve heykelcilere rastlanması, bunun bir göstergesidir. Bulunan heykellerin büyük bir kısmı çeşitli kavimlerin ilah saydıkları dini varlıkları tasvir etmektedir. Bazı heykellerin de kral ailelerini, kahramanları ve hayvanları betimledikleri görülmektedir.

Yukarıdaki parçada, kazılarda elde edilen heykel ve heykelcilikle ilgili olarak aşağıdakilerden hangisine değinilmemiştir?

- A) Yapımında kullanılan malzeme türüne
- B) Heykel tarihinin eskiye dayandığını desteklediğine
- C) Bazılarının dini amaçlı yapıldığına
- D) **Hangi sanatçı tarafından oluşturulduğuna**
- E) Kimilerinin insan ve başka canlıları tasvir ettiğine

82. Yolda yürüyorken uzaktan yaşlı bir adamın geldiğini gördüm. Üzerinde biraz eski, açık mavi bir takım elbise vardı. Ceketin üst cebinde üçgen şeklinde kıvrılmış mendil, kravatı ile aynı renkteydi. Yer yer ağarmış saçlarını sol tarafa yatırmış, hala siyahlığını koruyan bıyıklarını üst dudacağının üzerini kapatacak şekilde bırakmıştı. Bana babamı hatırlattı.

Yukarıdaki parçanın anlatımı için aşağıdakilerden hangisi söylenebilir?

- A) Karşılaştırmalar yapılmıştır.
- B) Tanımlamalara yer verilmiştir.
- C) **Betimlemelerden yararlanılmıştır.**
- D) Kişileştirmeye başvurulmuştur.
- E) Sayısal veriler kullanılmıştır.

ATATÜRK İLKELERİ ve İNKILAP TARİHİ

83.

- I. Birinci İnönü
- II. İkinci İnönü
- III. Sarıkamış
- IV. Eskişehir-Kütahya
- V. Bursa-İnegöl

Yukarıdaki muharebelerden hangileri Kurtuluş Savaşı döneminde Batı Cephesi'nde yapılan muharebelerden biri değildir?

- A) I ve II
- B) II ve III
- C) II ve IV
- D) **III ve V**
- E) IV ve V

84. Aşağıdakilerden hangisi Cumhuriyet döneminde kurulan siyasi partilerde genel başkanlık görevi yapan kişileri göstermektedir?

- A) Mustafa Kemal Atatürk, Rauf Orbay, Refet Bele
- B) **Mustafa Kemal Atatürk, Kazım Karabekir, Ali Fethi Okyar**
- C) İsmet İnönü, Ali Fuat Cebesoy, Kazım Orbay
- D) İsmet İnönü, Adnan Adıvar, Hasan Polatkan
- E) Celal Bayar, Fahrettin Altay, Tevfik İleri

85. Türk dilini sadeleştirmek, herkes tarafından anlaşılmasını sağlamak, yabancı dillerin boyunduruğundan kurtarmak amacıyla 12 Temmuz 1932 tarihinde kurulan kurum aşağıdakilerden hangisidir?

- A) Türk Tarihi Tetkik Cemiyeti
- B) İstanbul Edebiyat Fakültesi
- C) **Türk Dil Cemiyeti**
- D) Millet Mektepleri
- E) Halkevleri

86. Halkın kendini yönetmesi demek olan demokrasiyi esas alan, hiçbir kişi ya da zümreye ayrıcalık tanımayan ve vatandaşların kanun karşısında eşitliği esasına dayanan Atatürk ilkesi aşağıdakilerden hangisidir?

- A) Halkçılık
- B) Cumhuriyetçilik
- C) Devletçilik
- D) İnkılâpçılık
- E) Milliyetçilik

HALKLA İLİŞKİLER ve ETİK DAVRANIŞ KURALLARI

87. Kamunun ilgisini çekmek suretiyle bir konunun tanıtımının yapılmasını öngören halkla ilişkiler modeli aşağıdakilerden hangisidir?

- A) Basın Ajansı/Tanıtım Modeli
- B) Kamuyu Bilgilendirme Modeli
- C) İki Yönlü Asimetrik Modeli
- D) İki Yönlü Simetrik Modeli
- E) Durumsal Modeli

88. Aşağıdakilerden hangisi halkla ilişkilerin temel ilkelerinden değildir?

- A) Dürüstlük
- B) İnanırcılık
- C) Açıklık
- D) Sorumluluk
- E) Yönlendirmek

89. Mükemmel halkla ilişkiler teorisinin mimarı aşağıdaki düşünürlerden hangisidir?

- A) Ivy Lee
- B) Edward Bernays
- C) James Grunig
- D) Elihu Katz
- E) Harold Lasswell

90. Aşağıdakilerden hangisi bireysel etiğe uygun bir davranış olarak değerlendirilemez?

- A) Adaletli davranmak
- B) Dürüst olmak
- C) Açgözlülük yapmamak
- D) Menfaatine göre davranmak
- E) Sorumluluk sahibi olmak

91. Bir çalışanın iş yerindeki davranışları göz önünde bulundurulduğunda aşağıdakilerden hangisi yanlış bir davranıştır?

- A) Meslek normlarına bağlı olmak
- B) Mesleki bilgiyi önemsememek
- C) Mesleki değerleri önemsemek
- D) Sorumluluğunu bilmek
- E) Her yazıyı okumamak

92. Normatif etik modellerinden deontolojik yaklaşımı aşağıdaki ifadelerden hangisi açıklar?

- A) Sonuç yönelimli bir yaklaşımdır.
- B) Yararcılığı temel alan bir anlayıştır.
- C) Ödev yönelimli bir yaklaşımdır.
- D) Bireyi araçsallaştıran bir yaklaşımdır.
- E) Mutlulukçu bir anlayıştır.

ANAYASA

93. Aşağıdakilerden hangisi 1982 Anayasası'na göre Cumhurbaşkanı seçilme şartlarından biri değildir?

- A) Kırk yaşını doldurmuş olmak
- B) Yükseköğrenim yapmış olmak
- C) Türkiye Büyük Millet Meclisi üyesi olmak
- D) En az yirmi milletvekilinin yazılı teklifiyle aday gösterilmiş olmak
- E) Genel oyla yapılacak seçimde, geçerli oyların salt çoğunluğu almak

94. 1982 Anayasası'na göre, aşağıdakilerden hangisi siyasi partiler ile ilgili doğru değildir?

- A) Siyasi partiler, önceden izin alınmadan kurulur.
- B) Siyasi partiler, ticari faaliyetlere girişemez.
- C) Siyasi partilerin gelir ve giderlerinin amaçlarına uygun olması gereklidir.
- D) Siyasi partiler hakkında Anayasa Mahkemesince temelli kapatma kararı verilemez.
- E) Siyasi partiler yabancı devletlerden, uluslararası kuruluşlardan maddi yardım alamaz.

95. Türkiye Büyük Millet Meclisi'nin bir yasama döneminde sonuçlandıramadığı kanun tasarısı ve tekliflerinin hükümsüz sayılması aşağıdakilerden hangisi ile ifade edilir?

- A) İptal olma
- B) Kadük olma
- C) Butlan ile malûl olma
- D) Yoklukla malûl olma
- E) Nisyan ile malûl olma

96. 1982 Anayasası'na göre, suç ve cezalara ilişkin esaslarla ilgili aşağıdakilerden hangisi yanlıştır?

- A) Kimse, işlendiği zaman yürürlükte bulunan kanunun suç saymadığı bir fiilden dolayı cezalandırılmaz.
- B) Suçluluğu hükmen sabit oluncaya kadar, kimse suçlu sayılamaz.
- C) Hiç kimse kendisini ve kanunda gösterilen yakınlarını suçlayan bir beyanda bulunmaya veya bu yolda delil göstermeye zorlanamaz.
- D) Kanuna aykırı olarak elde edilmiş bulgular ancak milli güvenlik, kamu düzeni, genel sağlık nedenleri ile kamu yararının gerektirdiği hallerde delil olarak kullanılabilir.
- E) Hiç kimse, yalnızca sözleşmeden doğan bir yükümlülüğü yerine getirememesinden dolayı özgürlüğünden alıkonulamaz.

97. Aşağıdakilerden hangisi 1982 Anayasasında düzenlenen sosyal ve ekonomik haklardan biri değildir?

- A) Bilgi edinme ve kamu denetçisine başvurma hakkı
- B) Çevre hakkı
- C) Çocuk hakları
- D) Sosyal güvenlik hakları
- E) Toplu iş sözleşmesi hakkı

98.

- I. Cumhurbaşkanı
- II. Bakanlar Kurulu
- III. Milletvekilleri

1982 Anayasası'na göre, kanun teklif etmeye yukarıdakilerden hangisi ya da hangileri yetkilidir?

- A) Yalnız I
- B) Yalnız II
- C) Yalnız III
- D) I ve III
- E) II ve III

99. 1982 Anayasası'na göre aşağıdakilerden hangisi kamu kurumu niteliğindeki meslek kuruluşları ile ilgili doğru değildir?

- A) Kamu kurum ve kuruluşları ile kamu iktisadi teşebbüslerinde asli ve sürekli görevlerde çalışanların meslek kuruluşlarına üye olması zorunludur.
- B) Bu meslek kuruluşları, kuruluş amaçları dışında faaliyette bulunamazlar.
- C) Bu meslek kuruluşları ve üst kuruluşları organlarının seçimlerinde siyasi partiler aday gösteremezler.
- D) Bu meslek kuruluşları üzerinde Devletin idari ve mali denetimine ilişkin kurallar kanunla düzenlenir.
- E) Amaçları dışında faaliyet gösteren meslek kuruluşlarının sorumlu organlarının görevine, kanunun belirlediği merciin veya Cumhuriyet savcısının istemi üzerine mahkeme kararıyla son verilir ve yerlerine yenileri seçtirilir.

100. Aşağıdakilerden hangisinin Hâkimler ve Savcılar Yüksek Kurulu'na üye seçme yetkisi yoktur?

- A) Cumhurbaşkanı
- B) Yargıtay Genel Kurulu
- C) Danıştay Genel Kurulu
- D) Türkiye Adalet Akademisi Genel Kurulu
- E) **Türkiye Büyük Millet Meclisi**

101. Türkiye Büyük Millet Meclisi seçimlerinin geriye bırakılması ve ara seçimler hakkında aşağıdakilerden hangisi yanlıştır?

- A) **Savaş sebebiyle ülke genelinde yeni seçimlerin yapılmasına imkân görülmezse Cumhurbaşkanı, seçimlerin süresiz geriye bırakılmasına karar verebilir.**
- B) Türkiye Büyük Millet Meclisi üyeliklerinde boşalma olması halinde, ara seçime gidilir.
- C) Ara seçim, her seçim döneminde bir defa yapılır.
- D) Kural olarak genel seçimden otuz ay geçmedikçe ara seçime gidilemez.
- E) Genel seçimlere bir yıl kala, ara seçim yapılamaz.

102. Başbakan veya bakanları, görevleri sırasında ve görevleri ile ilgili olarak işlemiş oldukları suçlardan dolayı Yüce Divan sıfatıyla yargılama yetkisi aşağıdakilerden hangisine aittir?

- A) Danıştay
- B) Yargıtay
- C) **Anayasa Mahkemesi**
- D) Uyuşmazlık Mahkemesi
- E) Askeri Yüksek İdare Mahkemesi

103. 1982 Anayasası'na göre, milletvekili seçilecek Türk vatandaşlarının en az kaç yaşını doldurmuş olması gerekir?

- A) 18
- B) 21
- C) **25**
- D) 28
- E) 30

104. Aşağıdakilerden hangisi Devlet Denetleme Kurulu'nun görev alanı dışındadır?

- A) Sermayesinin yarısından fazlasına kamu kurum ve kuruluşlarının katıldığı her türlü kuruluş
- B) Kamu kurumu niteliğinde olan meslek kuruluşları
- C) Her düzeydeki işçi ve işveren meslek kuruluşları
- D) Kamuya yararlı dernekler ve vakıflar
- E) **Silahlı Kuvvetler**

İDARE HUKUKU GENEL ESASLARI ve DEVLET TEŞKİLATI

105. Verilen yetkinin kanunda öngörülen amacı dışında başka bir amaca yönelik olarak kullanılması idari işlemin hangi unsurundaki bir sakatlığı ifade eder?

- A) Yetki
- B) Şekil
- C) Konu
- D) **Amaç**
- E) Sebep

106. Bakanlar Kurulunun, kanunun uygulanmasını göstermek veya emrettiği işleri belirtmek üzere, kanunlara aykırı olmamak ve Danıştay'ın incelemesinden geçirilmek şartıyla çıkardığı düzenleyici işlem aşağıdakilerden hangisidir?

- A) Kanun hükmünde kararname
- B) **Tüzük**
- C) Yönetmelik
- D) Genelge
- E) Tebliğ

107. Aşağıdakilerden hangisinin Devlet kamu tüzel kişiliğinden ayrı, kendi başına bir kamu tüzel kişiliği söz konusu değildir?

- A) Bilgi Teknolojileri ve İletişim Kurumu
- B) **İnsan Hakları Üst Kurulu**
- C) Kamu İhale Kurumu
- D) Sermaye Piyasası Kurulu
- E) Radyo ve Televizyon Üst Kurulu

108. Artvin Kadastro Müdürlüğü'nde kontrol mühendisi olarak görev yapan A, Konya Kadastro Müdürlüğü emrine naklen atanmasına ilişkin idari işlemin iptali için tebliğ tarihinden itibaren kaç gün içinde dava açmalıdır?

- A) 7
- B) 10
- C) 15
- D) 30
- E) 60

109. Bir idari işlemin, o işlemi yapan organ ya da makamın iradesi ile işlemin yapıldığı tarihten itibaren geleceğe yönelik olarak ortadan kaldırılması ve hem de yerine yeni bir idari işlem tesis edilmesi aşağıdakilerden hangisi ile ifade edilir?

- A) Değişirme
- B) Düzeltme
- C) Geri alma
- D) Kaldırma
- E) Terkin

110. Toplam nüfusu en az kaç olan illerin il belediyeleri kanunla büyükşehir belediyesine dönüştürülebilir?

- A) 250 000
- B) 450 000
- C) 500 000
- D) 750 000
- E) 1 000 000

111. Sermayesinin tamamı bir iktisadi devlet teşekkülüne veya kamu iktisadi kuruluşuna ait olup ona bağlı işletme veya işletmeler topluluğu aşağıdakilerden hangisi ile ifade edilir?

- A) Bağlı ortaklık
- B) İlgili kuruluş
- C) İştirak
- D) Müessese
- E) Ticari işletme

112. Aşağıdakilerden hangisinin idaresi, yetki genişliği ilkesine dayanmaktadır?

- A) İl
- B) İlçe
- C) Köy
- D) İl özel idaresi
- E) Büyükşehir belediyesi

MİLLİ GÜVENLİK

113. Türkiye Büyük Millet Meclisi tatilde veya ara vermede iken ülkenin ani bir silahlı saldırıya uğraması ve bu sebeple silahlı kuvvet kullanılmasına derhal karar verilmesinin kaçınılmaz olması halinde Türk Silahlı Kuvvetleri'nin kullanılmasına aşağıdakilerden hangisi karar verebilir?

- A) Başbakan
- B) Cumhurbaşkanı
- C) Genelkurmay Başkanı
- D) Milli Güvenlik Kurulu
- E) Milli Savunma Bakanı

114. "Devletin tüm güç ve kaynaklarının, başta askeri güç olmak üzere, savaşın ihtiyaçlarını karşılayacak şekilde hazırlanması, toplanması, tertiplenmesi ve kullanılmasına ilişkin bütün faaliyetlerin uygulandığı; hak ve hürriyetlerin kanunlarla kısmen veya tamamen sınırlandırıldığı hal" aşağıdakilerden hangisi ile ifade edilir?

- A) Olağanüstü hal
- B) Seferberlik
- C) Sıkıyönetim
- D) Savaş hali
- E) Sivil savunma

115. Genelkurmay Başkanının atanmasıyla ilgili aşağıdaki ifadelerden hangisi doğrudur?

- A) TBMM Başkanının teklifi üzerine TBMM Genel Kurulu tarafından atanır.
- B) Yüksek Askeri Şûranın teklifi üzerine Bakanlar Kurulu tarafından atanır.
- C) Millî Güvenlik Kurulu'nun teklifi üzerine Başbakan tarafından atanır.
- D) Millî Savunma Bakanının teklifi üzerine Millî Güvenlik Kurulu tarafından atanır.
- E) Bakanlar Kurulunun teklifi üzerine Cumhurbaşkanı tarafından atanır.

116. Millî Güvenlik Kurulu'nun çalışma esasları ile ilgili aşağıdakilerden hangisi söylenmez?

- A) Kurul, iki ayda bir toplanır.
- B) Kurulun gündemi Cumhurbaşkanı tarafından düzenlenir.
- C) Kurul toplantıları Cumhurbaşkanının başkanlığında yapılır.
- D) Cumhurbaşkanının katılmadığı zamanlar Kurula Başbakan başkanlık eder.
- E) Kurul kararları ittifakla alınır.

VERGİ, HARÇ ve MALİ KONULAR

117. Aşağıdakilerden hangisi vergi borcunu sona erdiren sebeplerden biri değildir?

- A) Tahakkuktan vazgeçme
- B) Hata düzeltme
- C) Terkin
- D) Ölüm
- E) Af

118. Mükellefin veya sorumlunun vergilendirme ile ilgili ödevlerini zamanında yerine getirmemesi veya eksik yerine getirmesi yüzünden, verginin zamanında tahakkuk ettirilmemesi veya eksik tahakkuk ettirilmesi aşağıdakilerden hangisi ile ifade edilir?

- A) Kaçakçılık
- B) Mükelleflerin özel işlerini yapma
- C) Vergi mahremiyetinin ihlali
- D) Vergi ziyayı
- E) Usulsüzlük

119. 11.10.2013 günü elde edilen bir gelirden doğan vergi alacağına ilişkin tarh ve mükellefe tebliğ işleminin yapılmaması nedeniyle tahakkuk zamanaşımı süresi aşağıdaki tarihlerin hangisinde dolar?

- A) 31.12.2016
- B) 11.10.2018
- C) 31.12.2018
- D) 11.10.2023
- E) 31.12.2023

120. Aşağıdakilerden hangisi Harçlar Kanunu kapsamında yer almaz?

- A) Noter harçları
- B) Tapu ve kadastro harçları
- C) Konsolosluk harçları
- D) Üniversite harçları
- E) Trafik harçları

**TEST BİTTİ.
CEVAPLARINIZI KONTROL EDİNİZ.**

SINAVDA UYGULANACAK KURALLAR

1. Sınav süresince görevlilerle konuşmak ve soru sormak yasaktır. Aynı şekilde görevlilerin de adaylarla yakından ve alçak sesle konuşmaları yasaktır.
2. Yanınızda ve sıranızda dersle ilgili kitap, not vb. bulundurmamak yasaktır. Sınav sırasında kopya yapan, yapmaya teşebbüs eden, kopya veren, kopya yapılmasına yardım edenlerin kimlikleri, sınav görevlilerince BİREYSEL SINAV İPTAL TUTANAĞINA yazılacak ve bu adayların sınavları geçersiz sayılacaktır. Görevliler kopya yapmaya veya vermeye kalkışanları uyarmak zorunda değil; sorumluluk size aittir.
3. Adaylar sınav sırasında görevlilerin her türlü uyarılarına uymak zorundadır. Gerektiğinde görevliler oturduğunuz yerleri değiştirebilir. Sınavınızın geçerli sayılması, her şeyden önce sınav kurallarına uymanıza bağlıdır.
4. Sınav sırasında herhangi bir nedenle dışarı çıkmak yasaktır. Sınavın başlamasını izleyen ilk 30 dakikası içerisinde ve sınav süresinin son 15 dakikasında, sınavlarınızı tamamlasalar dahi, adayların salondan çıkmasına izin verilmez. Sınavın başlamasını izleyen ilk 15 dakika geçtikten sonra hiçbir aday sınava alınmaz.
5. Cevaplamaya geçmeden önce size verilecek soru kitapçığının üzerinde ayrılan yerlere adınız ve soyadınız ile aday, salon ve sıra numaralarınızı mutlaka yazınız. Sınav sonunda soru kitapçıkları toplanacak ve sınav merkezinde tek tek incelenecektir. Soru kitapçığının bir tek sayfası dahi eksik çıkarsa o oturumdaki sınavınız geçersiz sayılacaktır.
6. Cevap kâğıdına yazılacak her türlü yazı, rakam ve yapılacak işaretlemeler için koyu siyah kurşun kalem kullanılacaktır. Tükenmez kalem veya dolmakalem kesinlikle kullanılmayacaktır. CEVAPLARIN TÜMÜ CEVAP KÂĞIDINA İŞARETLENECEKTİR. Soru Kitapçıkları üzerine yapılan işaretlemeler kesinlikle değerlendirilmez.
7. Soru Kitapçığının sayfalarındaki boş yerleri müsvedde olarak kullanabilirsiniz. Başka bir kâğıdı müsvedde olarak kullanmak yasaktır.
8. Adayların soruları ve/veya sorulara verdikleri yanıtları herhangi bir yere yazmaları ve bunu sınav salonundan dışarıya çıkarmaları yasaktır.
9. Adaylar sınava gelirken telsiz, cep telefonu, çağrı cihazı vb. iletişim araçları ile görüntü kaydetmeye yarayan fotoğraf makinesi, kamera vb. araçları getirmemeleri gerekmektedir. Yanlarında bu tür cihazları bulunanların, bunları sınav sonrasında almak üzere salon başkanına teslim etmeleri gerekir.
10. Sınavınız bittiğinde, cevap kâğıdınız ve soru kitapçığınızı salon görevlilerine şahsen teslim ediniz. Teslim etmediğiniz evrak nedeniyle o oturumdaki sınavınız geçersiz sayılacak ve hakkınızda yasal işlem yapılacaktır.

SINAVINIZDA BAŞARILAR DİLERİZ.